

**Miércoles 10 de marzo.**

# La centena de mil

1)



- a) **Escribí**, en letras, el número que indica la cantidad de personas que viven en la ciudad donde vive Ana.
- b) ¿Esa cantidad está más cerca del 300.000 o del 200.000?

2) **Observá** las cifras de este número:

**345.789**

a) **Completá**:

La cifra de mayor valor es ..... que vale .....

La cifra de menor valor es ..... que vale .....

b) **Expresá** el número de dos maneras diferentes:

271.689= 200.000 + ..... + ..... +.....+.....+.....

271.689=.....x100.000 + 7x ..... + .....+ .....+..... +...

3) **Escribí** con cifras:

a) cuatrocientos diecisiete mil cuatro

b) novecientos noventa y nueve mil

# Repasamos calculando


\* Resolvé las siguientes situaciones problemáticas sin hacer las cuentas.

En una caja hay 12 alfajores. ¿Es cierto que en 10 cajas habrá más de 100 alfajores?




Respuesta: \_\_\_\_\_

La mamá de Aron tiene \$873 y gastó, en el supermercado, \$655. ¿Es cierto que le quedan menos de \$200?




Respuesta: \_\_\_\_\_

Un grupo de 40 turistas tiene que dividirse en 8 grupos de igual cantidad de personas para entrar a visitar un museo. ¿Es cierto que cada grupo estará formado por 5 personas?



Respuesta: \_\_\_\_\_

Juliana repartió sus 27 monedas de \$1 entre sus 2 hermanos. ¿Pudo darles a todos la misma cantidad de monedas sin que sobrara ninguna?



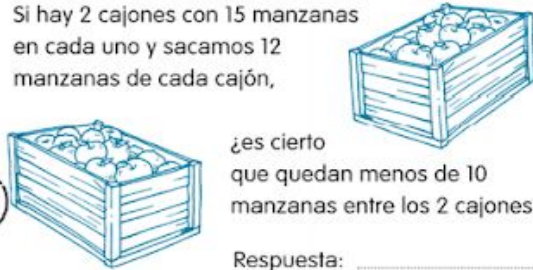
Respuesta: \_\_\_\_\_

Nicolás tenía \$200 en billetes de 100 en su billetera. Su mamá le regaló 3 billetes más de \$50. ¿Es cierto que ahora tiene más de \$300?



Respuesta: \_\_\_\_\_

Si hay 2 cajones con 15 manzanas en cada uno y sacamos 12 manzanas de cada cajón, ¿es cierto que quedan menos de 10 manzanas entre los 2 cajones?



Respuesta: \_\_\_\_\_

## Recordando

- La docente escribirá en el pizarrón las siguientes palabras:

Azul y cristalino	Cálidas y transparentes	SOL	AGUAS	MAR	TIBIO	SOBRESALIENTE
ALBATROS	DELFIN	LOBO MARINO	saltan	regresan	ÚNICOS, IMPORTANTES Y NECESARIOS	

Conversamos:

- ¿A qué cuento hace referencia estas palabras?
- ¿A qué hace referencia las palabras azul y cristalino?
- ¿Quién es sobresaliente? ¿y tibio?

Clasificamos las palabras según corresponda:

¿QUÉ ES? ¿Quiénes son?	¿CÓMO ES? ¿Cómo son?	¿QUÉ HACE? ¿Qué hacen?

### RECORDAMOS LA CLASIFICACIÓN DE ESAS PALABRAS.

#### Sustantivos

Palabra que sirve para designar los seres vivos o las cosas materiales o mentales; gramaticalmente funciona como núcleo de un sintagma nominal, y varía en cuanto al género y al número.

#### Adjetivos.

Clase de palabra que acompaña al sustantivo para expresar una cualidad de la cosa designada por él o para determinar o limitar la extensión del mismo.

#### Verbos

Los **verbos** son aquellas palabras **que** se utilizan para expresar acciones, estados, actitudes, condiciones, sucesos de la naturaleza o existencia. Por **ejemplo**: vamos, estuvieron, correrás.

#### Concordancia entre sustantivo y adjetivo

El **adjetivo** debe concordar con el **sustantivo** en género, número y caso, al igual que el artículo y el participio, por ser considerados como **adjetivos**. La casa está abandonada. ... Cuando hay dos **sustantivos** de un mismo género en singular coordinados, si se quiere añadir un **adjetivo** que acompañe a ambos, debe ir en plural.

#### VEMOS EL SIGUIENTE VIDEO

<https://youtu.be/v0xeInFcD-0>

#### ACTIVIDAD:

- Volvé a leer el cuento “El lobo marino, el delfín y el albatros” y extraé del texto 5 sustantivos comunes, 5 adjetivos y 5 verbos.
- Con esas palabras, armá otras oraciones, y recordá que deben concordar en género y número.